



**KOLEJ YAYASAN PELAJARAN JOHOR
PEPERIKSAAN AKHIR**

NAMA KURSUS : PRINSIP EKONOMI
KOD KURSUS : DSM 1043
PEPERIKSAAN : OKTOBER 2017
MASA : 3 JAM

ARAHAN KEPADA CALON

1. Kertas soalan ini mengandungi **TIGA (3)** bahagian:
BAHAGIAN A (20 Markah)
BAHAGIAN B (40 Markah)
BAHAGIAN C (40 Markah)

2. Calon tidak dibenarkan membawa masuk sebarang peralatan ke dalam bilik peperiksaan kecuali dengan kebenaran pengawas peperiksaan.

3. Sila pastikan bahan-bahan berikut diperolehi untuk sesi peperiksaan ini:
 - i. Kertas Soalan
 - ii. Kertas Jawapan Objektif
 - iii. Buku Jawapan

JANGAN BUKA KERTAS SOALAN INI SEHINGGA DIBERITAHU

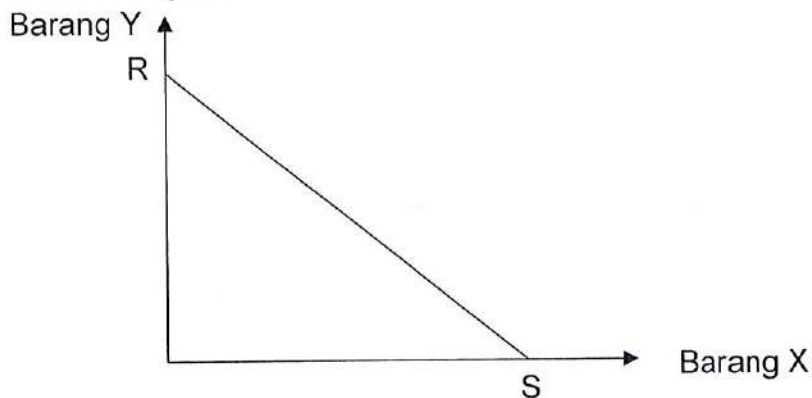
KERTAS SOALAN INI MENGANDUNGI 13 HALAMAN BERCETAK TERMASUK MUKA HADAPAN

BAHAGIAN A

Bahagian ini mengandungi **DUA PULUH (20)** soalan.

Jawab **SEMUA** di dalam Kertas Jawapan Objektif.

1. Ekonomi berasal daripada perkataan *Greek* iaitu *Oikos nomos* yang membawa maksud
 - A peraturan buruh.
 - B peraturan gaji minimum.
 - C peraturan ekonomi rumahtangga.
 - D peraturan di dalam sesebuah rumahtangga.
2. Manakah antara berikut diandaikan tidak berubah dalam penerbitan Keluk Kemungkinan Pengeluaran?
 - A Tingkat teknologi.
 - B Citarasa pengguna.
 - C Tingkat harga umum.
 - D Bekalan wang dalam ekonomi.
3. Rajah 1 di bawah menunjukkan Keluk Kemungkinan Pengeluaran RS bagi sesebuah negara.

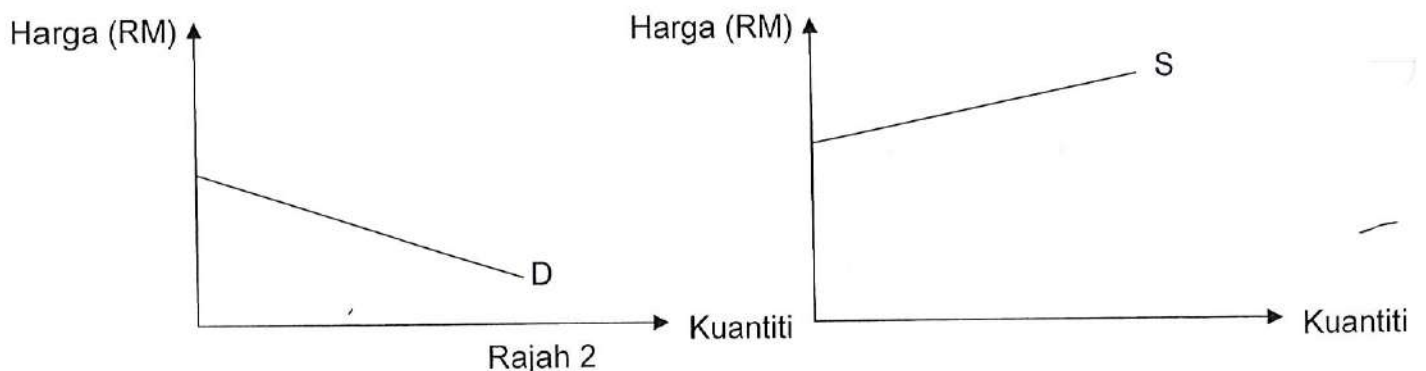


Rajah 1

Pernyataan manakah antara yang berikut **benar** berkaitan dengan rajah 1 di atas?

- A Penambahan barang X melibatkan kos lepas yang malar.
- B Penambahan barang X tidak melibatkan sebarang kos lepas.
- C Kos lepas semakin kecil apabila semakin banyak barang modal dihasilkan.
- D Kos lepas semakin meningkat apabila semakin banyak barang Y dihasilkan.

4. "Kuasa besar pengguna" bermakna pengguna
- A dapat mempengaruhi dasar-dasar kerajaan melalui kuasa politik.
 - B dapat mempengaruhi jenis dan kuantiti barang yang akan dikeluarkan oleh pengeluar.
 - C bebas menggunakan sumber ekonomi yang dimiliki untuk memaksimumkan pendapatan.
 - D mempunyai kebebasan untuk memilih barang yang digunakan untuk memaksimumkan kepuasan.
5. Ciri yang membezakan sistem ekonomi pasaran bebas dengan sistem ekonomi perancangan pusat ialah dalam sistem ekonomi perancangan pusat
- A peruntukan sumber ekonomi dipengaruhi oleh kuasa besar pengguna.
 - B campurtangan kerajaan dan mekanisma harga yang menentukan peruntukan sumber.
 - C pengeluar swasta yang menentukan bagaimana sumber ekonomi diperuntukkan untuk memaksimumkan keuntungan.
 - D arahan datang daripada perancangan pusat bukannya mekanisma harga untuk menentukan peruntukan sumber.
6. Rajah 2 di bawah menunjukkan keluk permintaan dan keluk penawaran kamera di pasaran.



Antara berikut, yang manakah **benar**?

- A Harga kamera terlalu mahal sehingga wujud lebih permintaan.
- B Harga kamera terlalu murah sehingga wujud lebih penawaran.
- C Harga kamera semakin murah apabila kuantiti diminta semakin banyak.
- D Harga kamera terlalu mahal sehingga tiada seorang pengguna pun yang sanggup membelinya.

7. Antara berikut, yang manakah **tidak** mengalihkan keluk permintaan sesuatu barang?
- A Harga barang tersebut meningkat.
 - B Kerajaan mengurangkan pemberian subsidi.
 - C Harga barang penggantinya semakin murah.
 - D Citarasa pengguna yang tidak menyukai barang tersebut.
8. Jadual 1 yang berikut menunjukkan kuantiti diminta dan kuantiti ditawarkan bagi suatu barang pada pelbagai tingkat harga.

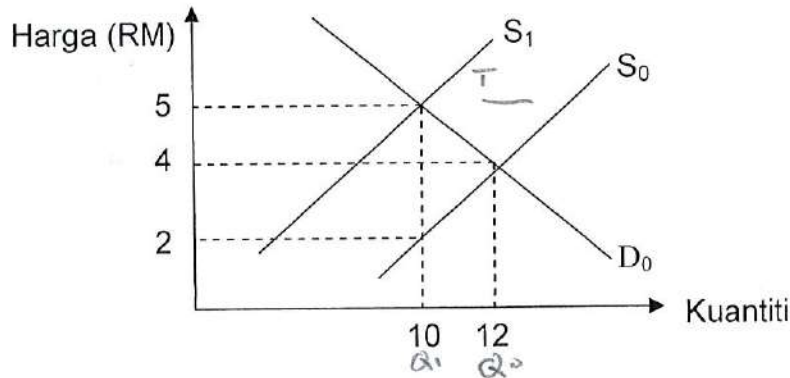
Harga (RM)	Kuantiti diminta (unit)	Kuantiti ditawarkan (unit)
20	1000	350
30	800	480
40	600	600
50	550	790
60	420	880
70	300	1200

Jadual 1

- Apakah yang akan berlaku apabila kerajaan menetapkan harga RM 60 sebagai harga maksimum?
- A Lebihan permintaan sebanyak 460 unit
 - B Lebihan penawaran sebanyak 460 unit
 - C Lebihan permintaan dan harga akan naik
 - D Lebihan penawaran dan harga akan naik
9. Keluk penawaran mencerun ke atas dari kiri ke kanan kerana
- A kesan penggantian dan pendapatan.
 - B hukum utiliti sut yang semakin berkurang.
 - C untung yang lebih tinggi menyebabkan harga semakin meningkat.
 - D insentif untung yang lebih tinggi mendorong pengeluar menambahkan pengeluaran.

10. Keluk penawaran beralih ke kiri disebabkan oleh
- A kenaikan harga input.
 - B pertambahan pendapatan.
 - C pertambahan bilangan pengeluar.
 - D peningkatan teknologi pengeluaran.

Soalan 11 hingga soalan 13 berdasarkan gambarajah di bawah.



Rajah 3

Rajah 3 menunjukkan D_0 dan S_0 masing-masing ialah keluk permintaan dan keluk penawaran. Keluk S_0 beralih ke S_1 apabila kerajaan mengenakan cukai.

11. Berapakah cukai per unit yang dikenakan oleh kerajaan terhadap barang itu?
- A RM 2
 - B RM 3
 - C RM 4
 - D RM 5
12. Berapakah beban cukai yang ditanggung oleh pengeluar?
- A RM 20
 - B RM 30
 - C RM 40
 - D RM 50
13. Berapakah beban cukai yang ditanggung oleh pengguna
- A RM 10
 - B RM 20
 - C RM 30
 - D RM 40

14. Antara berikut, yang manakah tidak dapat diperolehi daripada data Keluaran Negara dalam jangka masa panjang?
- A Perubahan taraf hidup rakyat.
 - B Perubahan struktur ekonomi negara.
 - C Perubahan corak agihan pendapatan.
 - D Perubahan sumbangan sektor-sektor ekonomi.
15. Antara persamaan berikut, yang manakah **tidak benar**?
- A Keluaran Negara Bersih = Keluaran Negara Kasar – Susut Nilai.
 - B Keluaran Negara Kasar + Pendapatan Faktor Bersih dari luar negeri = Keluaran Dalam Negara Kasar.
 - C Keluaran Negara pada harga faktor + Cukai tak langsung – Subsidi = Keluaran Negara Kasar pada harga pasaran.
 - D Keluaran Negara Kasar pada harga pasaran – Cukai tak langsung + Subsidi = Keluaran Negara Kasar pada kos faktor.
16. Kaedah perhitungan Pendapatan Negara yang tidak diamalkan ni negara Malaysia ialah
- A kaedah keluaran.
 - B kaedah pendapatan.
 - C kaedah perbelanjaan.
 - D kaedah keluaran dan perbelanjaan.

17. Jadual 2 di bawah menunjukkan data pendapatan negara sebuah negara pada suatu tahun tertentu.

Butir	RM (Juta)
Pendapatan faktor bersih dari luar negeri	5000
Susut nilai	15 000
Cukai persendirian	30 000
Cukai tak langsung	25 000
Subsidi	10 000
Keluaran Negara Kasar pada harga pasaran	85 000

Jadual 2

Berapakah nilai Keluaran Negara Bersih pada kos faktor?

- A RM45 000 juta
 - B RM65 000 juta
 - C RM75 000 juta
 - D RM105 000 juta
18. Antara berikut yang manakah **bukan** fungsi wang?
- A Alat perniagaan.
 - B Alat pengukur nilai.
 - C Alat penyimpan nilai.
 - D Alat perantaraan pertukaran.
19. Bekalan **M1** terdiri daripada
- A wang edaran sahaja.
 - B wang dalam edaran dan deposit bank.
 - C wang dalam edaran dan deposit semasa.
 - D wang dalam edaran dan deposit tabungan.
20. Semua butiran berikut akan menyekat perdagangan bebas, **kecuali**
- A kuota.
 - B devaluasi.
 - C peraturan kesihatan.
 - D kawalan pertukaran asing.

[20 MARKAH]

BAHAGIAN B

Bahagian ini mengandungi **EMPAT (4)** soalan.

Jawab **SEMUA** soalan. Jawab di dalam Buku Jawapan.

SOALAN 1

Jadual 3 di bawah menunjukkan Harga Barang A dan kuantiti permintaan Barang A, Barang B dan Barang C.

Harga Barang A (RM)	Barang A (kg)	Barang B (kg)	Barang C (kg)	Pendapatan (RM)
2	2000	1500	1000	5000
4	1800	1200	800	3500
6	1600	1000	600	2000
8	1400	900	500	1400
10	1200	800	400	1200
12	1000	600	200	1000

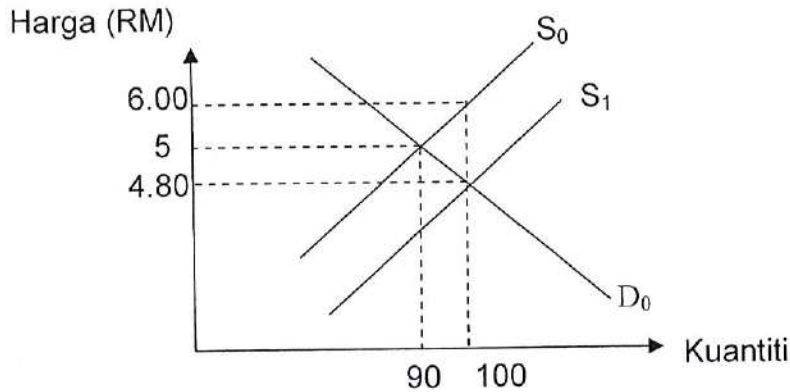
Jadual 3

Berdasarkan jadual di atas:

- Kirakan keanjalan permintaan harga untuk Barang A apabila harga Barang A menurun dari RM10 ke RM4.
(2 markah)
- Kirakan keanjalan permintaan silang antara harga Barang A dan kuantiti Barang B apabila harga Barang A naik dari RM2 ke RM6.
(2 markah)
- Berdasarkan jawapan di (b), apakah jenis hubungan antara Barang A dan Barang B?
(1 markah)
- Kirakan keanjalan permintaan silang antara harga Barang A dan kuantiti Barang C apabila harga Barang A jatuh dari RM12 ke RM8.
(2 markah)
- Kirakan keanjalan pendapatan bagi Barang C apabila pendapatan meningkat dari RM1200 ke RM1400. Apakah jenis barang C.
(3 markah)

SOALAN 2

Rajah 4 di bawah menunjukkan D_0 dan S_0 masing-masing ialah keluk permintaan dan keluk penawaran. Keluk S_0 beralih ke S_1 apabila kerajaan mengenakan subsidi.



Rajah 4

Berdasarkan gambarajah di atas:

- a. Berapakah nilai harga dan kuantiti sebelum subsidi diberikan oleh kerajaan?

(2 markah)

- b. Selepas subsidi diberikan, berapakah nilai harga dan kuantiti yang perlu di bayar oleh pengguna?

(2 markah)

- c. Berapakah jumlah subsidi yang diberi oleh kerajaan?

(1 markah)

- d. Hitungkan jumlah faedah yang dimanfaatkan oleh pengguna dan pengeluar?

(4 markah)

- e. Kirakan jumlah subsidi yang dikeluarkan oleh kerajaan.

(1 markah)

SOALAN 3

Jadual 4 di bawah menunjukkan data pendapatan negara bagi sesebuah negara.

Butiran	RM juta
Perbelanjaan penggunaan isi rumah	1 600
Pembentukan modal tetap kasar	1 090
Eksport	600
Import	450
Perbelanjaan kerajaan	950
Pendapatan faktor bersih dari luar negara	310
Perubahan inventori	120
Subsidi	90
KWSP	200
Cukai tak langsung	290
PERKESO	40
Susut nilai	220
Cukai pendapatan persendirian	450
Bayaran pindahan	170

Jadual 4

Berdasarkan jadual di atas, hitungkan;

- Keluaran Dalam Negara Kasar pada harga pasar ($KDNK_{hp}$) (2 markah)
- Keluaran Negara Kasar pada kos faktor (KNK_{kf}) (2 markah)
- Keluaran Negara Bersih (2 markah)
- Pendapatan persendirian (2 markah)
- Pendapatan boleh guna (2 markah)

SOALAN 4

Data kewangan Negara JKK adalah diberi seperti berikut (dalam RM juta):

Butiran	RM (Juta)
Wang syiling	11 100
Deposit tetap dan simpanan di bank perdagangan	22 500
Sijil-sijil Bank Negara Malaysia	14 600
Sijil deposit bolehniaga	10 100
Deposit tetap dan simpanan di bank saudagar	18 450
Deposit tetap di Bank Islam Malaysia Berhad (BIMB)	16 260
Deposit semasa	21 000

Jadual 5

a. Jika wang fiat ialah RM 18 500, berapakah nilai wang kertas?

(2 markah)

b. Kirakan:

i. M1

(2 markah)

ii. M2

(2 markah)

iii. M3

(2 markah)

c. Kirakan "wang hampir" (wang kuasi).

(2 markah)

[40 MARKAH]

BAHAGIAN C

Bahagian ini mengandungi **EMPAT(4)** soalan. Jawab **DUA (2)** soalan sahaja.
Jawab di dalam Buku Jawapan.

SOALAN 1

- a. Apakah yang dimaksudkan dengan mikroekonomi?
(2 markah)
- b. Berapakah prinsip asas falsafah dalam Islam? Nyatakan.
(4 markah)
- c. Terangkan **empat (4)** faktor pengeluaran di dalam ekonomi.
(8 markah)
- d. Berdasarkan gambarajah beserta huraian, berikan **tiga (3)** faktor yang menyebabkan Keluk Kemungkinan Pengeluaran (KKP) berubah.
(6 markah)

SOALAN 2

- a. Nyatakan **empat (4)** ciri sistem ekonomi pasaran bebas.
(4 markah)
- b. Dengan bantuan gambarajah, huraikan bagaimana perubahan berikut mempengaruhi keluk permintaan *Darlie*.
(6 markah)
- i. Penurunan harga *Darlie*.
 - ii. Citarasa pengguna beralih kepada *Colgate*.
- c. Nyatakan **empat (4)** jenis barang yang wujud dalam ekonomi.
(4 markah)
- d. Berpandukan rajah, bezakan tentang perubahan dalam kuantiti diminta dan perubahan dalam permintaan.
(6 markah)

SOALAN 3

- a. Apakah yang dimaksudkan dengan lebih permintaan?
(2 markah)
- b. Berpandukan model aliran sektor isi rumah dan sektor firma, terangkan tentang konsep pendapatan negara.
(6 markah)
- c. Terbitkan formula untuk kaedah perbelanjaan di dalam perakaunan pendapatan negara.
(4 markah)
- d. Jelaskan **tiga (3)** kegunaan pendapatan negara.
(6 markah)

SOALAN 4

- a. Berikan **dua (2)** bentuk wang dan **dua (2)** kategori wang.
(4 markah)
- b. Jelaskan **tiga (3)** fungsi bank perdagangan pusat.
(6 markah)
- c. Apakah **empat (4)** perbezaan antara perdagangan antarabangsa dan perniagaan domestik.
(4 markah)
- d. Huraikan **tiga (3)** tujuan polisi perlindungan yang dipraktikkan sesebuah negara ke atas negara lain.
(6 markah)

[40 MARKAH]

KERTAS SOALAN TAMAT