

BAHAGIAN A

Bahagian ini mengandungi **SATU (1)** soalan.

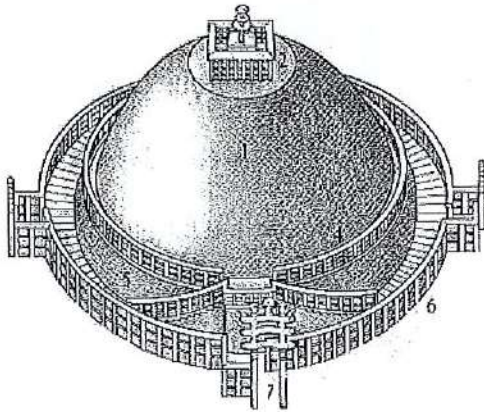
Jawab **SEMUA** soalan. Jawab dalam Buku Jawapan.

SOALAN 1

Berdasarkan Gambar A-J di bawah, nyatakan yang berikut.

- Nama bangunan/ binaan dan lokasi asal
- Era senibina bangunan/ binaan dibina.
- Fungsi bangunan/ binaan.


(30 markah)




Gambar A




Gambar B




Gambar C




Gambar D



Gambar E




Gambar F




Gambar G



Gambar H



Gambar I



Gambar J

BAHAGIAN B

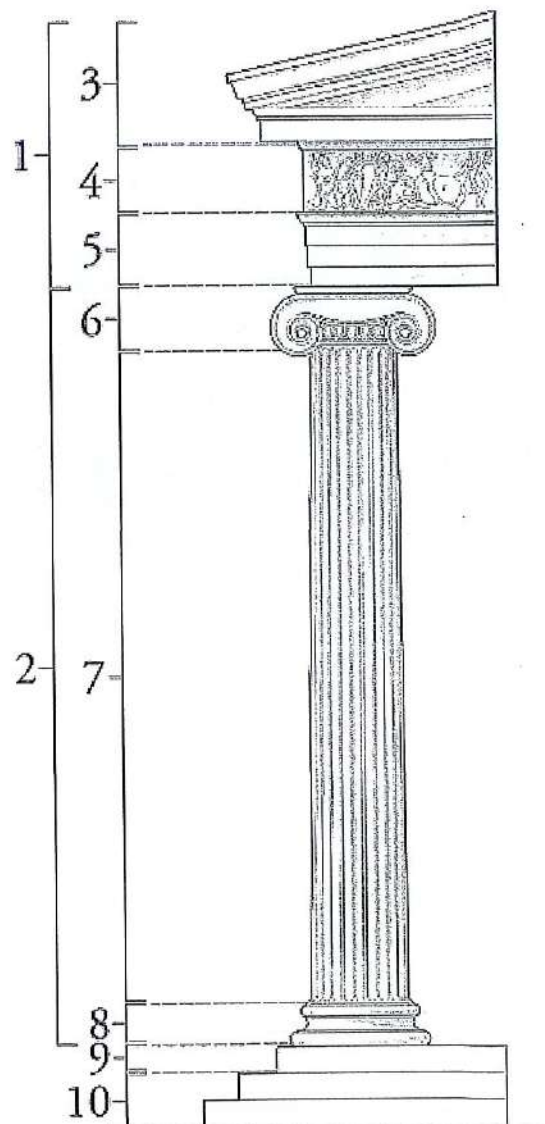
Bahagian ini mengandungi **TIGA (3)** soalan.

Jawab SEMUA soalan. Jawab dalam Buku Jawapan.

SOALAN 1

Pilih dan padankan nama semua bahagian yang ditunjukkan dalam Rajah A dari jadual di bawah:

SHAFT	STYLOBATE	COLUMN	KREPIS	CAPITAL
FRIEZE	ENTABLATURE	BASE	ARCHITRAVE	CORNICE



Rajah A : Ionic Order


SOALAN 2

Awal Kristian dan Byzantine bermula pada tahun 323 Masihi ketika Raja Constantine I membuat keputusan untuk memindahkan ibukota Empayar Rom ke Byzantium. Beliau kemudian menukar nama ibukota itu kepada nama Constantinople.

- a. Dengan bantuan lakaran, terangkan secara ringkas mengenai kubah pendentif.

(5 markah)

- b. Berdasarkan Gambar K di bawah:



Gambar K

- i. Namakan bangunan dan nama lokasi asal.

(2 markah)

- ii. Terangkan dengan ringkas ciri-ciri struktur senibina bangunan serta bahan kemasan yang digunakan.

(8 markah)

SOALAN 3

Mesir purba berputar di sekitar Sungai Nil dan memperkenalkan sistem mumia dan pembinaan piramid.

a. Berikan definisi piramid.

(3 markah)

b. Dengan bantuan lakaran, terangkan secara ringkas piramid berikut:

- i. Mastaba
- ii. Piramid Bent
- iii. Piramid Step
- iv. Piramid Agung Giza

(12 markah)

BAHAGIAN C

Bahagian ini mengandungi **TIGA (3)** soalan.

Jawab DUA (2) soalan sahaja. Jawab dalam Buku Jawapan.


SOALAN 1

Seni bina Islam boleh ditakrifkan sebagai tradisi bangunan penduduk Islam di Timur Tengah dan mana-mana negara di mana Islam telah dominan dari abad ke-7.

a. Berikan tiga (3) elemen asas hiasan yang digunakan dalam seni Islam.

(3 markah)

b. Berdasarkan Gambar L di bawah:



Gambar L

i. Namakan bangunan dan nama lokasi asal.

(2 markah)

ii. Latar belakang dan fungsi bangunan.

(3 markah)

iii. Terangkan dengan ringkas ciri-ciri struktur senibina bangunan serta bahan kemas yang digunakan.

(7 markah)

SOALAN 2

Berikan maksud dan lakarkan secara ringkas istilah berikut.

- a. Torii
- b. Tatami
- c. Ikebana
- d. Fusuma
- e. Pagoda Jepun

(15 markah)

SOALAN 3

Lakarkan dan terangkan secara ringkas tiga (3) ciri penting bangunan berikut:

- a. Kuil Bali
- b. Rumah Tongkonan
- c. Rumah Minangkabau

(15markah)

KERTAS SOALAN TAMAT

