



**FINAL EXAMINATION / PEPERIKSAAN AKHIR
SEMESTER 1 – SESSION 2019 / 2020
PROGRAM KERJASAMA (PPK)**

COURSE CODE : UHAS 1172
KOD KURSUS

COURSE NAME : MALAYSIA DYNAMIC
NAMA KURSUS : DINAMIKA MALAYSIA

YEAR / PROGRAMME : TAHUN SATU
TAHUN / PROGRAM

DURATION : 2 HOURS / 2 JAM
TEMPOH

DATE : NOVEMBER 2018 2019
TARIKH

INSTRUCTION/ARAHAN :

PART A : BAHAGIAN A :

- i) Answer **ALL** questions in the **OMR** form provided
Jawab SEMUA soalan di dalam borang OMR yang disediakan

PART B : BAHAGIAN B :

- ii) Answer **ALL** questions in the answer booklet(s) provided.
Jawab SEMUA soalan di dalam buku jawapan yang disediakan.

(You are required to write your name and your lecturer's name on your answer script)
(Pelajar dikehendaki tuliskan nama dan nama pensyarah pada skrip jawapan)

STUDENT'S NAME / NAMA PELAJAR	:
I.C NO. / NO. K/PENGENALAN	:
YEAR / PROGRAMME TAHUN / PROGRAM	:
COLLEGE'S NAME NAMA KOLEJ	:



PUSAT PROGRAM KERJASAMA

PETIKAN DARIPADA PERATURAN AKADEMIK ARAHAN AM - PENYELEWENGAN AKADEMIK

1. SALAH LAKU SEMASA PEPERIKSAAN

1.1 Pelajar tidak boleh melakukan mana-mana salah laku peperiksaan seperti berikut :-

- 1.1.1 memberi dan/atau menerima dan/atau memiliki sebarang maklumat dalam bentuk elektronik, bercetak atau apa jua bentuk lain yang tidak dibenarkan semasa berlangsungnya peperiksaan sama ada di dalam atau di luar Dewan Peperiksaan melainkan dengan kebenaran Ketua Pengawas; atau
- 1.1.2 menggunakan maklumat yang diperolehi seperti di atas bagi tujuan menjawab soalan peperiksaan; atau
- 1.1.3 menipu atau cuba untuk menipu atau berkelakuan mengikut cara yang boleh ditafsirkan sebagai menipu semasa berlangsungnya peperiksaan; atau
- 1.1.4 lain-lain salah laku yang ditetapkan oleh Universiti (seperti membuat bising, mengganggu pelajar lain, mengganggu Pengawas menjalankan tugasnya).

2. HUKUMAN SALAH LAKU PEPERIKSAAN

2.1 Sekiranya pelajar didapati telah melakukan pelanggaran mana-mana peraturan peperiksaan ini, setelah diperakukan oleh Jawatankuasa Peperiksaan Fakulti dan disabitkan kesalahannya, Senat boleh mengambil tindakan dari mana-mana satu yang berikut :-

- 2.1.1 memberi markah SIFAR (0) bagi keseluruhan keputusan peperiksaan kursus yang berkenaan (termasuk kerja kursus); atau
- 2.1.2 memberi markah SIFAR (0) bagi semua kursus yang didaftarkan pada semester tersebut.

2.2 Jawatankuasa Akademik Fakulti boleh mencadangkan untuk diambil tindakan tatatertib mengikut peruntukan Akta Universiti dan Kolej Universiti, 1971, Kaedah-kaedah Universiti Teknologi Malaysia (Tatatertib Pelajar-pelajar), 1999 bergantung kepada tahap kesalahan yang dilakukan oleh pelajar.

2.3 Pelajar yang didapati melakukan kesalahan kali kedua akan diambil tindakan seperti di perkara 2.1.2 dan dicadang untuk diambil tindakan tatatertib mengikut peruntukan Akta Universiti dan Kolej Universiti, 1971, Kaedah-kaedah Universiti Teknologi Malaysia (Tatatertib Pelajar-pelajar), 1999.

Bahagian A : (40 Markah)

Jawab Semua Soalan di dalam borang OMR yang disediakan.

1. Perkataan manusia diambil daripada bahasa:

- A. Melayu.
- B. Sanskrit.
- C. Poleynesia.
- D. Arab.

2. Dalam bahasa *Latin*, masyarakat di maksudkan sebagai:

- A. Homo.
- B. Human.
- C. Basyar.
- D. An-nas.

Doktrin agama yang mengaitkan manusia berasal dari keturunan Adam dan Hawa.

3. Berdasarkan pernyataan diatas ia merujuk kepada teori:

- A. Monogenesis.
- B. Poligenesis.
- C. Kelas.
- D. Masyarakat Majmuk.

4. Teori Poligenesis dikemukakan oleh:

- A. Charles Darwin.
- B. Hooker.
- C. Miller.
- D. J.S Furnivall.

5. Dalam buku *The Decent of Man* karya Charles Darwin, ianya membahaskan tentang:

- A. Manusia berasal daripada binatang.
- B. Manusia berasal daripada bintang.
- C. Manusia berasal daripada Adam dan Hawa.
- D. Manusia berasal daripada alam ghaib.

6. Mengikuti teori evolusi, *homo sapien* berkembang dan membentuk 3(tiga) ras utama iaitu;

- I. *Caucasoid* (putih).
- II. *Mongoloid*(kuning).
- III. *Negroid* (hitam).
- IV. *Australoid* (kelabu).

- A. I,II dan III.
- B. I, III dan IV.
- C. II, III dan IV.
- D. Semua diatas.

7. Ras merujuk kepada persamaan biologi dan ciri-ciri fizikal seperti;

- I. Warna kulit.
- II. Warna mata.
- III. Bentuk kepala.
- IV. Ketebalaan bibir.

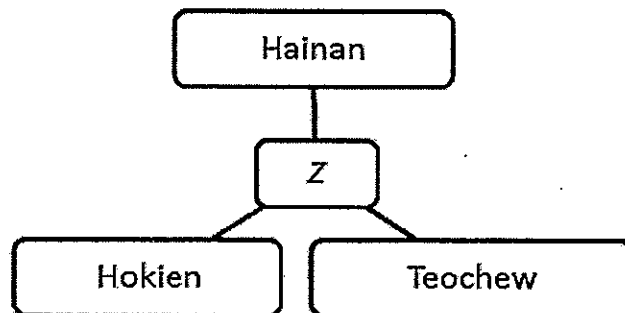
- A. I dan II
- B. I dan III
- C. II, III dan IV
- D. Semua diatas.

8.

Y merujuk kepada rasa kekitaan sesuatu kumpulan etnik

Berdasarkan pernyataan diatas, Y merujuk kepada:

- A. Etnik.
- B. Etnisiti.
- C. Etnosentrisme.
- D. Stereotaip.



Rajah 1

9. Berdasarkan rajah1 diatas, kelompok Z dalam masyarakat Cina dikenali sebagai:

- A. Etnik.
- B. Sub-etnik.
- C. Etnisiti.
- D. Etnosentrisme.

10. Asas utama pembentukan masyarakat bermula dengan:

- A. Individu.
- B. Keluarga.
- C. Kumpulan kecil manusia.
- D. Bangsa.

11. Berikut adalah ciri-ciri masyarakat **kecuali**;

- A. Berbudaya.
- B. Berkelompok.
- C. Kepimpinan
- D. Diwarisi.

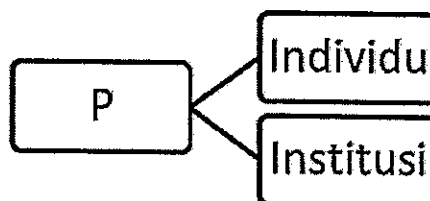
12. Budaya terbahagi kepada 2 iaitu;

- I. Budaya kebendaan.
- II Budaya K-Pop.
- III Budaya bukan kebendaan.
- IV Budaya Black Metal.

- A. I dan II.
- B. I dan III.
- C. II dan III.
- D. III dan IV.

13. Teori berikut menerangkan tentang asal usul manusia:

- A. Teori monogenesis- Keturunan Adam dan Hawa.
- B. Teori agama - Keturunan Nabi Muhammad S.A. W.
- C. Teori homo sapien - Keturunan Masyarakat Asia Barat.
- D. Teori poligenesis - Keturunan Masyarakat Campuran.



Rajah 2

14. Berdasarkan rajah 2 di atas, P mewakili:

- A. Ras.
- B. Rasisme.
- C. Stereotaip.
- D. Prejudis.

X merujuk kepada layanan buruk sesuatu kumpulan etnik terhadap kumpulan etnik yang lain

15. Berdasarkan pernyataan diatas, X merujuk kepada:

- A. Etnosentrisme.
- B. Diskriminasi.
- C. Stereotaip.
- D. Prejudis.

16. Masyarakat Arab yang berhijrah ke Melaka pada peringkat awal zaman perdagangan dikenali dengan gelaran:

- A. Wan.
- B. Ungku.
- C. Syed.
- D. Chek.

17. Antara berikut, yang manakah merupakan undang-undang Melayu bertulis yang terawal?

- A. Undang-Undang Pahang.
- B. Hukum Kanun Perak.
- C. Undang-Undang Kedah.
- D. Hukum Kanun Melaka.

18. Agama Islam disebarkan di rantau Alam Melayu secara aman melalui;

- I Perkahwinan.
- II Penaklukan.
- III Perdagangan.
- IV Kegiatan intelektual.

- A. I, II dan III.
- B. I, II dan IV.
- C. I, III dan IV.
- D. II, III dan IV.

19. Hari Gawai yang disambut pada 1 Jun setiap tahun merupakan perayaan utama yang diraikan oleh suku kaum:

- A. Bidayuh.
- B. Iban.
- C. Melanau.
- D. Orang Ulu.

20. Pilih kenyataan yang **benar** tentang Kerajaan Melayu Melaka pada abad ke-15 Masehi.

- I Kerajaan Melayu Melaka mengamalkan pentadbiran demokrasi.
- II Zaman kegemilangan Kerajaan Melayu Melaka terserlah semasa pemerintahan Sultan Mansur Shah.
- III Pandangan masyarakat Melayu Melaka terhadap institusi beraja berkait rapat dengan konsep-konsep taat setia, daulat, derhaka dan tulah.
- IV Kesultanan Melayu Melaka adalah warisan dari Kesultanan Majapahit dari Pulau Jawa.

- A. I dan II.
- B. I dan III.
- C. II dan III.
- D. III dan IV.

21. *Dalam zaman Kesultanan Melayu Melaka, pembesar Z bertugas sebagai penjaga kewangan kerajaan. Peranannya mempunyai persamaan dengan jawatan Menteri Kewangan pada hari ini. Pernyataan di atas merujuk kepada;*

- A. Bendahara.
- B. Penghulu Bendahari.
- C. Temenggung.
- D. Laksamana.

22. Kesultanan Melayu Melaka sangat terkenal dalam kalangan pedagang dan pelayar serata dunia. Fenomena ini lahir kerana Kesultanan Melayu Melaka pernah muncul sebagai;

- I Sebuah empayar yang besar dan kukuh meliputi bahagian Timur Sumatera dan hampir keseluruhan Semenanjung Tanah Melayu.
- II Pusat penyebaran agama Hindu Buddha.
- III Kekayaan bahan-bahan mentah semula jadi dalam jajahan Melaka sendiri.
- IV Pusat pertembungan dan perdagangan pedagang-pedagang Timur dan Barat.

- A. I dan II.
- B. I dan III.
- C. I dan IV.
- D. I, III dan IV.

23. Bukti kehadiran dan penerimaan Islam di Melaka diperkukuhkan lagi oleh catatan bertulis pemerintah waktu itu, yaitu;
- A. Hukum Kanun Melaka.
 - B. Catatan Batu Bersurat.
 - C. Penerimaan Islam oleh putera Parameswara.
 - D. Catatan Ibnu Battutah.
24. Berikut ialah kepercayaan yang dianuti masyarakat Alam Melayu sebelum kedatangan Islam **kecuali**:
- A. Hindu.
 - B. Buddha.
 - C. Taonisme.
 - D. Animisme.
25. Proses asimilasi dan amalgamasi dalam kalangan pedagang-pedagang luar dengan penduduk tempatan semasa Kerajaan Melayu Melaka telah melahirkan masyarakat berikut **kecuali**:
- A. Baba Nyonya.
 - B. Keturunan Sikh.
 - C. Melayu berketurunan Arab (Syed/Sheikh).
 - D. Melayu berketurunan India (mamak).
26. Di antara berikut, kelompok yang manakah **bukan** tergolong dalam tiga rumpun utama masyarakat orang Asli di Semenanjung Tanah Melayu?
- A. Aborigin.
 - B. Senoi.
 - C. Melayu Asli.
 - D. Negrito.
27. Antara berikut, yang mana kelompok kumpulan etnik pribumi di Sabah?
- A. Iban.
 - B. Bidayuh.
 - C. Kadazan Dusun.
 - D. Melanau.
28. Berikut merupakan sebab-sebab kenapa agama Islam mudah diterima oleh masyarakat tempatan semasa Kesultanan Melayu Melaka **kecuali**:
- A. Islam mudah difahami.
 - B. Masyarakat Melaka ingin menukar agama.
 - C. Peranan pemerintah.
 - D. Islam merangkumi seluruh aspek kehidupan.

29. Pilih kenyataan **tidak benar** mengenai hubungan Kesultanan Melayu Melaka dengan kerajaan China.
- A. Kesultanan Melayu Melaka mendapat perlindungan daripada Kerajaan China.
 - B. Kerajaan China mendapat keistimewaan semasa berdagang di Melaka.
 - C. Laksamana Cheng Ho pernah datang ke Melaka.
 - D. Kedatangan China bertujuan untuk meluaskan jajahan takluk.
30. Hubungan diplomatik peringkat awal antara Kerajaan Melayu Melaka dengan Kerajaan China adalah berkait rapat dengan;
- A. Politik.
 - B. Ekonomi.
 - C. Perkahwinan.
 - D. Perdagangan.
31. Berikut adalah pasangan kelompok etnik dan aktiviti ekonomi yang dikenalpasti sebagai bentuk pluraliti masyarakat pasca penjajahan di Tanah Melayu **kecuali**:
- A. India – perladangan.
 - B. Cina – perlombongan.
 - C. Melayu – pertanian.
 - D. Punjabi – perladangan.
32. Gerakan Imperialisme Barat telah berlangsung pada abad ke:
- A. 15M hingga abad ke 20M.
 - B. 10M hingga abad ke 15M.
 - C. 8M hingga abad ke 13M.
 - D. 15SM hingga abad ke 20M.
33. Kegiatan Imperialisme Barat berdasarkan agenda 3 G iaitu:
- I. Gold
 - II. Good
 - III. Glory
 - IV. Gospel
- A. I dan II.
 - B. II dan IV.
 - C. I, III dan IV.
 - D. Semua di atas.
34. Penjajah Portugis telah menduduki Melaka selama:
- A. 180 tahun.
 - B. 150 tahun.
 - C. 130 tahun.
 - D. 120 tahun.


35. "X merupakan Negara yang paling singkat menjajah Tanah Melayu"
X merujuk kepada kuasa:

- A. Jepun.
- B. Sepanyol.
- C. British.
- D. Portugis.

36. Apakah teori yang wujud kesan daripada kegiatan Imperialisme Barat?

- I Teori Ekologi.
- II Teori Kelas.
- III Teori Pertukaran sosial.
- IV Teori Pasaran buruh terpisah.

- A. I dan II.
- B. I dan III.
- C. I dan IV.
- D. Semua di atas.



37. Pernyataan di atas merujuk kepada:

- A. Imperialisme.
- B. Nasionalisme.
- C. Sekularisme.
- D. Modernisme.

38. Berikut merupakan **bukan** faktor penjajahan British ke atas Tanah Melayu:

- A. Perebutan Kuasa di Perak.
- B. Keinginan untuk maju dengan cepat.
- C. Masalah Kongsy Gelap.
- D. Perebutan Kuasa di Negeri Sembilan.

39.

Y telah dimeterai oleh kerajaan British dan Belanda sebagai langkah awal kearah meluaskan lagi Imperialisme Barat. Kedua-dua negara melibatkan diri di dalam perjanjian yang telah ditandatangani pada tahun 1824.

Y merujuk kepada:

- A. Perjanjian Pangkor.
- B. Perjanjian Inggeris - Belanda.
- C. Perlembagaan paksa Malayan Union.
- D. Perlembagaan Persekutuan Tanah Melayu.

40. Revolusi perindustrian di Eropah telah menyebabkan:

- A. Undang-undang membenarkan penjajahan.
- B. Negara miskin menjadi sasaran penjajahan.
- C. Penjajah barat memilih negara tertentu sabagai tumpuan.
- D. Keperluan Britain keatas bahan mentah seperti bijih timah untuk perusahaan meng-
tin makanan.

41. Termeterinya Perjanjian Pangkor telah membawa kepada pengenalan Sistem Residen di Tanah Melayu. Bilakah Perjanjian Pangkor ditandatangani?

- A. 1874M.
- B. 1872M.
- C. 1784M.
- D. 1782M.

42. Berdasarkan ciri-ciri berikut, yang manakah merujuk kepada masyarakat majmuk?

- I. Dalam Bahasa Inggeris diambil dari perkataan *plural*
- II. Perkara berkaitan kesihatan dan keadaan sosial masyarakat
- III. Teori masyarakat majmuk diperkenalkan oleh J.S Furnival
- IV. Masyarakat yang tinggal berasingan tetapi tidak berhubung

- A. I dan II.
- B. I dan III.
- C. II dan III.
- D. III dan IV.

43. Antara berikut yang manakah **benar** tentang sejarah penjajahan di Malaysia?

- I. Rakyat tidak bangkit menentang penjajah.
- II. Dijajah selama 443 tahun
- III. Negara yang pernah menjajah antaranya Jepun dan Belanda
- IV. Penjajahan membawa kemajuan kepada Negara ini

- A. I dan II.
- B. I dan IV.
- C. II dan III.
- D. III dan IV.

44. Manakah antara berikut **bukan** Negeri-Negeri Melayu Bersekutu (NNMB)?

- A. Perak.
- B. Selangor.
- C. Negeri Sembilan.
- D. Perlis.

45. Berikut merupakan isu perkembangan sains dan teknologi yang membawa kepada gerakan imperialisme Barat, **kecuali**:

- A. Pembinaan kapal wap dan mampu belayar dalam jangka masa yang lama.
- B. Teknologi kapal wap mempercepatkan perjalanan jarak jauh.
- C. Pembuatan senjata moden seperti senapang dan meriam.
- D. Komunikasi telekomunikasi memberi kemudahan.

46. "*Suatu masyarakat yang mempunyai monopoli dalam penggunaan kekerasan fizik secara sah dalam suatu wilayah*"

Petikan berikut adalah takrifan negara oleh:

- A. J.S Furnival.
- B. E.B Taylor.
- C. Max Weber.
- D. Mahathir Bin Mohamad.

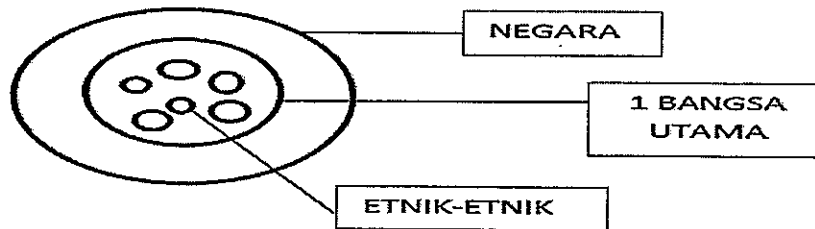
47. Sesebuah tempat atau kawasan boleh dikategorikan sebagai sebuah negara apabila mempunyai perkara berikut **kecuali**:

- A. Sekumpulan orang atau penduduk.
- B. Ditadbir oleh pemerintah.
- C. Mempunyai sempadan negara yang sah.
- D. Mempunyai landskap yang cantik.

"Unity in diversity"

48. Petikan di atas merupakan slogan bagi konsep:

- A. Kesepaduan.
- B. Perpaduan.
- C. Kesatuan.
- D. Persatuan.



Rajah 3

49. Rajah 3 di atas menggambarkan maksud bagi:

- A. Kesepaduan.
- B. Asimilasi.
- C. Perpaduan.
- D. Akulturasi.

50. Kesamaan atau kesatuan negara bangsa, bebas mengamalkan dan meminjam unsur budaya lain dengan harmoni atas tujuan kerjasama sejagat, adalah bersesuaian dengan maksud bagi:

- A. Negara.
- B. Negara bangsa.
- C. Perpaduan.
- D. Kesepaduan.

51. Manakah yang sesuai bagi maksud integrasi:

- A. Proses menyatupadukan masyarakat dan negara supaya bangsa akan tanah air.
- B. Proses mewujudkan satu identiti nasional dalam kumpulan yang terpisah.
- C. Proses transformasi nasional dan rundingan sosial.
- D. Proses penerimaan unsur budaya lain.

52. Kestabilan negara adalah dipengaruhi oleh:

- I. Politik
- II. Ekonomi
- III. Sosial
- IV. Agama

- A. I,II dan III.
- B. I, III dan IV.
- C. I, II dan IV.
- D. II, III dan IV.

Soalan 53 hingga 54 adalah berdasarkan petikan di bawah:

"Di Malaysia pelbagai kumpulan etnik hidup secara harmoni dan menghormati di antara satu sama lain walaupun berlainan etnik".

53. Konsep yang diterangkan di atas adalah berkaitan:

- A. Asimilasi.
- B. Akomodasi.
- C. Amalgamasi.
- D. Segregasi.

54. Formula algebra bagi petikan di atas adalah:

- A. $A+B+C = D$
- B. $A+B+C = A$
- C. $A+B+C = A+B+C$
- D. $A_i+B+C = A_i+B_i+C_i$

55. Di Malaysia, apa yang berlaku ke atas masyarakat Jawa, Cina Kelantan dan komuniti Baba dan Nyonya merupakan proses:

- A. Akulturasi.
- B. Asimilasi.
- C. Amalgamasi.
- D. Akomodasi.

56. Amalgamasi merujuk kepada:

- A. Proses percantuman dan penyatuan antara kumpulan etnik berlainan budaya sehingga membentuk kelompok budaya yang baru.
- B. Proses penerimaan unsur kebudayaan dalam kalangan individu atau kelompok dari satu kebudayaan lain yang berbeza.
- C. Proses yang terjadi apabila budaya atau ras berkahwin campur untuk membentuk jenis budaya atau ras yang baru.
- D. Proses menyebabkan setiap kumpulan etnik menyedari serta saling menghormati norma dan nilai kumpulan etnik lain.

57. Proses akulturasi terjadi apabila berlakunya:

- A. Perkahwinan campur.
- B. Peniruan budaya.
- C. Penukaran identiti diri.
- D. Pengasingan budaya.

58. Sentimen perkauman dan agama yang dimainkan dalam politik boleh menyebabkan hubungan etnik di Malaysia menjadi:

- A. Harmoni.
- B. Kukuh.
- C. Bertolak ansur.
- D. Rapuh.

59. *"Proses penyatuan kelompok-kelompok etnik yang berbeza latar belakang menjadi satu entiti yang terikat oleh norma dan nilai serta kepentingan bersama"*
Pernyataan di atas merujuk kepada proses;

- A. Integrasi.
- B. Segregasi.
- C. Akomodasi.
- D. Akulturasi.

60. *"Satu sikap yang dihasilkan tanpa penyelidikan fakta yang sempurna"*
Pernyataan ini merujuk kepada:

- A. Prasangka.
- B. Interaksi.
- C. Integrasi.
- D. Implikasi.

~~Soalan Objektif tamat~~
Sila ke soalan seterusnya

BAHAGIAN B: (20 markah)

Jawab semua soalan di dalam buku jawapan.

1. a. Senaraikan **empat (4)** agama yang terdapat di Malaysia. (2 Markah)
- b. *Kebanyakan pengkaji sejarah tentang agama menyatakan bahawa agama adalah keperluan asasi setiap manusia. Agama penting dalam kehidupan setiap manusia sebagai panduan sepanjang kehidupan mereka.*

Berdasarkan pernyataan berikut, jelaskan **tiga(3)** sebab mengapa manusia perlu beragama? (6 markah)

2. a. Apakah yang dimaksudkan dengan kontrak sosial? (2 Markah)
- b. Mengapakah Bahasa Melayu dipilih sebagai Bahasa Kebangsaan? (4 Markah)

3. *Pilihanraya Umum Malaysia ke 14 (PRU 14) yang berlangsung pada 9 Mei 2018 telah menyaksikan kekalahan besar dalam sejarah bagi gabungan Barisan Nasional(BN) yang mentadbir Malaysia selama 61 tahun.*

Pada pandangan anda, apakah faktor-faktor yang menyebabkan kekalahan tersebut. Berikan **tiga (3)** ulasan anda beserta contoh yang sesuai. (6 markah)

~~Soalan Tamat~~
Selamat berjaya